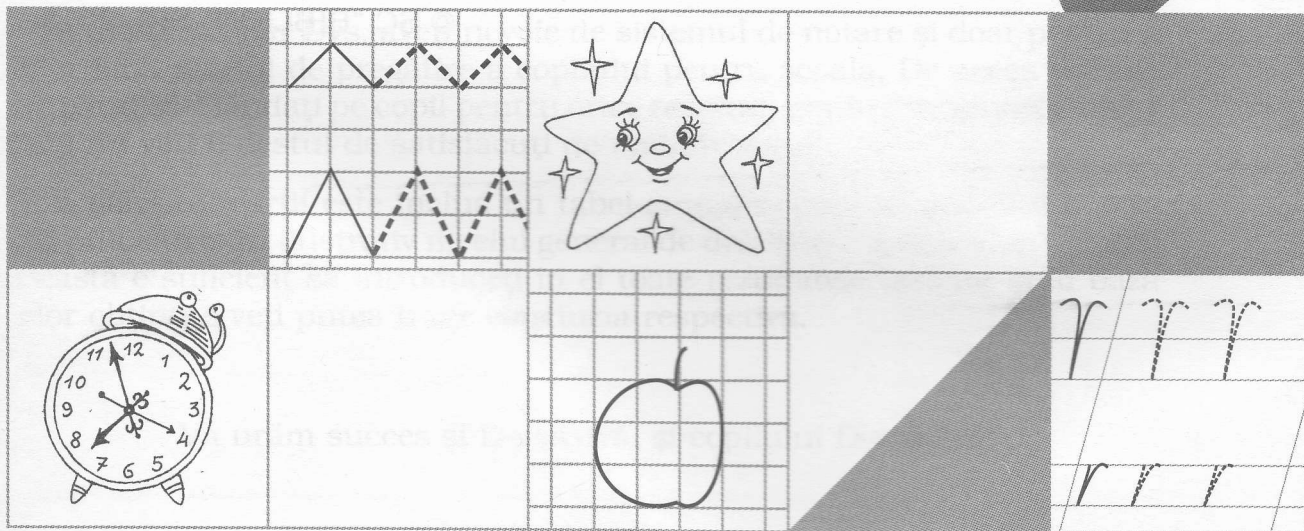

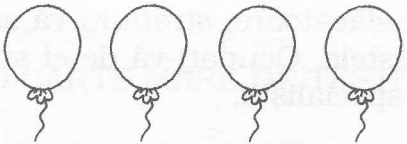

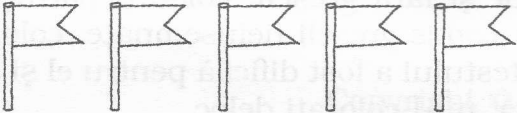
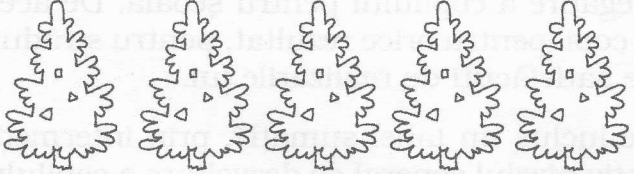
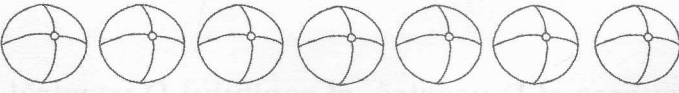


O CARTE MARE DE TESTE PENTRU CEI MICI



1. Desenează în fiecare șir atâtea obiecte câte nu ajung până la cantitatea indicată de cifre.

5	
8	
6	
9	
7	
10	



A rezolvat testul fără greșeli.


A comis 1-2 greșeli.

A comis 3-4 și mai multe greșeli.

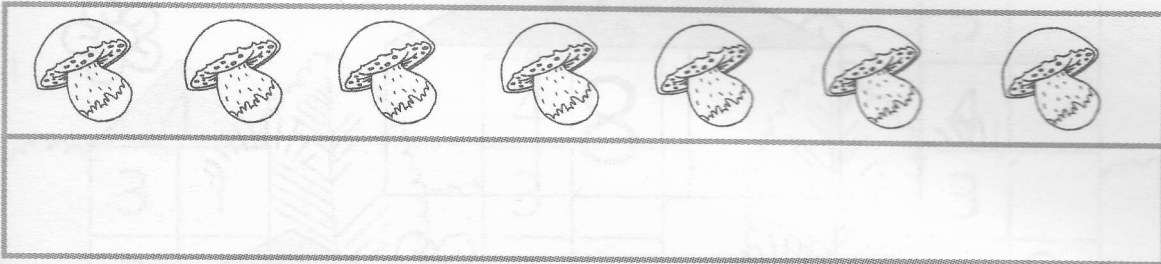


2. **Desenează în rândul de jos obiectele în așa fel încât să fie cu unul mai multe decât în cel de sus.**


Respect pentru oameni și cărți




Desenează în rândul de jos obiectele în așa fel încât să fie cu unul mai puține decât în cel de sus.



Desenează în rândul de jos obiectele în așa fel încât să fie cu două mai multe decât în cel de sus.






Desenează în rândul de jos obiectele în așa fel încât să fie cu două mai puține decât în cel de sus.



- A rezolvat testul fără greșeli.
- A comis 1 greșeală.
- A comis 2 și mai multe greșeli.




3. Înscris în pătrățelele libere cifrele care trebuie să stea înaintea și după cele înscrise deja.


-  A înscris corect toate cifrele.
-  A comis 1-2 greșeli.
-  A comis 3-4 și mai multe greșeli.



4. Divizează numerele indicate pe acoperișurile căsuțelor în alte două numere. Unul dintre aceste numere este dat în partea stângă a căsuțelor.



- Știe să divizeze numerele de până la 10. A rezolvat testul fără greșeli.
- A comis 1-2 greșeli.
- A comis 3-4 și mai multe greșeli.



matematica
teste
dezvoltarea
vorburii
atenția
memoria
gândirea
motricitatea
fina
bazele
citirii
lumina
inconfundabilă

5. Numește figurile geometrice. Unește fiecare figură cu obiectul care se aseamănă cu ea.

dezvoltarea
 vorbirii

atenția


memoria

gândirea

motricitatea
 fină

bazele
 citirii







înțelegerea
 înconjurătoare



- A numit corect toate figurile geometrice și a găsit obiectele potrivite.
- A comis 1-2 greșeli sau n-a numit 1-2 figuri.
- A comis 3-4 greșeli.

6. Pune semnele "mai mare", "mai mic", "egal".

Respect pentru oameni și cărți



matematica
teste

dezvoltarea
vorbirii

atenția

memoria

gândirea

motricitatea
fină


bazele
citirii

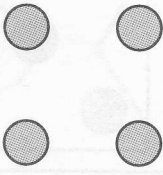
lumea
înconjurătoare


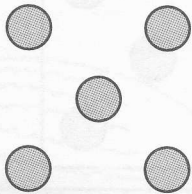
- A pus corect toate semnele.
- A comis 1-2 greșeli.
- A comis 3-4 și mai multe greșeli.





6. Desenează în pătrățelele libere numărul necesar de cerculețe.


	$<$	
---	-----	--

	$>$	
---	-----	--

	$=$	
---	-----	---

	$<$	
---	-----	--

	$>$	
---	-----	--

	$=$	
---	-----	--


- A desenat numărul necesar de cerculețe în toate pătrățelele.
- A comis 1-2 greșeli.
- A comis 3-4 greșeli.




dezvoltarea
 vorbirii
 atenția
 memoria
 gândirea
 motricitatea
 fină
 bazele
 citirii
 înțelegerea
 înțelegerea

7. Compune exerciții pe baza ilustrațiilor și înscrie-le în pătrățele.

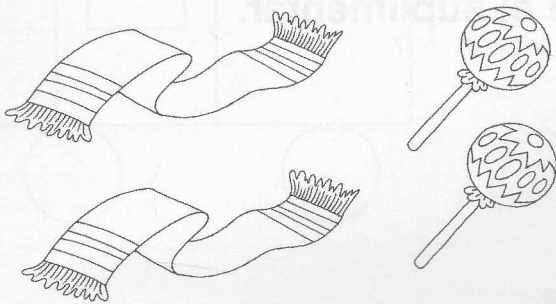
respect pentru oameni și cărți




--	--	--	--	--



--	--	--	--	--



--	--	--	--	--



--	--	--	--	--

matematica
teste

dezvoltarea
vorbirii

atenția

memoria

gândirea

motricitatea
fina

bazele
citirii

lumina
înconjurătoare

- A compus singur toate exercițiile și le-a înscris corect.
- A compus exercițiile, dar n-a știut a le înscrie sau le-a înscris incorect.
- A întâmpinat dificultăți la rezolvarea exercițiilor.

